

제 4 교시

사 회

홀수형

수험번호 ( )

성 명 ( )

※ 다음 물음에 대한 가장 옳은 답을 하나만 골라, OMR 답안지에 정확히 표기하시오.

1. 지도에 사용되는 기호 중 학교를 의미하는 것은?

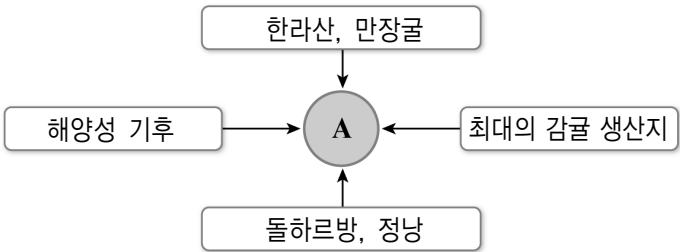
- ① ② ③ ④

2. 다음과 같은 북부 지방의 생활 모습에 가장 영향을 준 것은?

- 폐쇄적인 가옥 구조
- 보온을 위한 두터운 솜옷
- 김장 시기가 빠르며, 싱겁게 간을 한 김치

- ① 기후 ② 식생 ③ 지형 ④ 토양

3. 그림의 A에 해당하는 우리 나라의 지역은?



- ① 독도 ② 완도 ③ 제주도 ④ 강화도

4. 다음 내용에 해당하는 것은?

- 세계 최대의 사막
- 아프리카 대륙의 약 1/3을 차지하는 지역

- ① 고비 사막 ② 사하라 사막  
③ 칼라하리 사막 ④ 아타카마 사막

5. 지도에 표시된 지역에서 주로 사용하는 언어는?



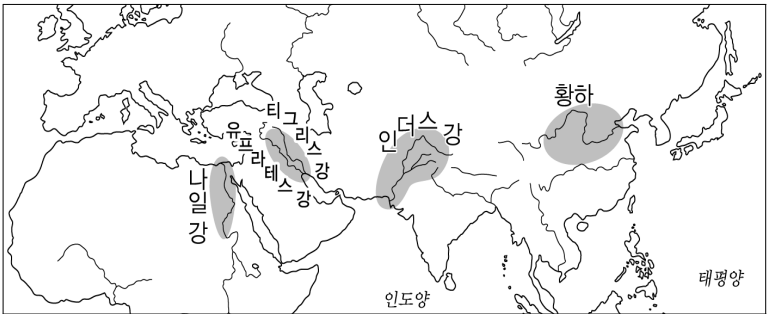
- ① 중국어  
② 일본어  
③ 러시아 어  
④ 포르투갈 어

6. 다음 내용에 해당하는 현상은?

- 산업화에 따라 농촌 인구가 도시로 이동하는 현상
- 취업과 교육의 기회를 찾아 서울, 부산 등 대도시로 이동

- ① 역도시화 ② 인구 고령화  
③ 이촌 향도 ④ 도심의 인구 공동화

7. 지도에 표시된 지역의 공통점은?



- ① 갑골 문자의 사용 ② 카스트제의 실시  
③ 힌두교의 발생지 ④ 고대 문명의 발상지

8. 다음 내용에 해당하는 고대 국가는?

- 페리클레스
- 올림피아 제전
- 도편 추방제
- 파르테논 신전

- ① 그리스 ② 페니키아  
③ 페르시아 ④ 카르타고

9. 다음 인물들과 관련 있는 역사적 사실은?

- 마젤란
- 콜럼버스
- 바스코 다 가마

- ① 르네상스 ② 종교 개혁  
③ 산업 혁명 ④ 신항로 개척

10. 다음 내용에 해당하는 시민 혁명은?

- 인권 선언
- 나폴레옹의 등장
- 바스티유 감옥 습격
- 자유주의와 민족주의 운동 촉진

- ① 명예 혁명 ② 프랑스 혁명  
③ 청교도 혁명 ④ 미국 독립 혁명

11. 다음 근대화 운동이 발생한 국가는?

- 신해혁명                      ○ 양무 운동
- 변법자강 운동                ○ 태평 천국 운동

- ① 일본            ② 중국            ③ 타이            ④ 인도

12. 다음 내용에 해당하는 법률은?

형벌의 유무와 범죄의 성립 및 처벌에 관한 규정

- ① 민법            ② 상법            ③ 헌법            ④ 형법

13. 민주 선거의 4원칙이 아닌 것은?

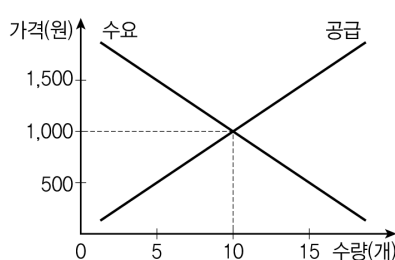
- ① 평등 선거                      ② 직접 선거
- ③ 제한 선거                      ④ 비밀 선거

14. 다음 내용에 해당하는 경제 체제는?

- 사유 재산 보장
- 경제 활동의 자유 보장
- 시장을 통해 생산, 분배, 소비의 경제 문제 해결

- ① 시장 경제                      ② 계획 경제
- ③ 장원 경제                      ④ 노예 경제

15. 수요·공급 그래프에서의 균형 가격은?



- ① 500원                      ② 1,000원
- ③ 1,500원                      ④ 3,000원

16. 다음에서 설명하는 현대 사회의 변동 특성은?

- 정보와 지식을 중심으로 다양한 인간 활동이 이루어짐
- 정보 통신 기술의 발달로 일상생활의 폭넓은 변화가 이루어짐

- ① 정보화            ② 획일화            ③ 지역화            ④ 공업화

17. 환경 문제를 해결하기 위한 방안이 아닌 것은?

- ① 자원을 재활용한다.
- ② 쓰레기 양을 줄인다.
- ③ 분리수거를 생활화한다.
- ④ 일회용품의 사용을 늘린다.

18. 다음 내용에 해당하는 나라는?

- 단군                      ○ 홍익인간                      ○ 8조법

- ① 고조선            ② 부여            ③ 옥저            ④ 가야

19. 다음과 같은 업적을 남긴 백제의 왕은?

- 마한 전 지역을 확보하여 전성기를 맞이함
- 중국의 요서·산둥, 일본의 규슈 지방에 진출함

- ① 온조왕            ② 공민왕            ③ 내물왕            ④ 근초고왕

20. 다음 내용에 해당하는 인물은?

- 고려 건국                      ○ 훈요 10조                      ○ 복진 정책

- ① 주몽            ② 원효            ③ 왕건            ④ 광해군

21. 다음 내용에 해당하는 조선의 제도는?

- 조세 징수와 군역 부과에 활용함
- 오늘날의 주민 등록증과 같이 신분을 증명하는 제도임

- ① 과전법            ② 호패법            ③ 직전법            ④ 대동법

22. 다음에서 설명하는 조선 후기의 정치 형태는?

- 순조, 헌종, 철종의 3대 60여 년간 지속됨
- 왕실과 훈인 관계를 맺은 소수 가문의 권력 독점

- ① 세도 정치                      ② 무신 정치
- ③ 봉당 정치                      ④ 탕평 정치

23. 다음 내용에 해당하는 역사적 사건은?

- 김옥균, 박영효 등 개화파 주도
- 우정국 개국 축하연을 이용
- 문벌 폐지, 조세 제도 개혁 등 14개조 정강 발표

- ① 병인양요            ② 갑신정변            ③ 임진왜란            ④ 아관파천

24. 다음 내용에 해당하는 민족 운동은?

- 1907년에 발생한 경제적 민족 운동
- 일본에 진 빚을 국민의 힘으로 갚자는 자립 운동

- ① 개화 운동                      ② 위정척사 운동
- ③ 동학 농민 운동                      ④ 국채 보상 운동

25. 다음 내용에 해당하는 인물은?

- 상하이 홍커우 공원에서 열린 행사에 폭탄을 던져 일본군을 응징함
- 항일 독립 투쟁에 중국과 협력하는 계기가 됨

- ① 김익상            ② 김상옥            ③ 윤봉길            ④ 나석주

※ 확인사항

자신의 문제지 문형(출수형)이 정확한가?

답을 OMR 카드의 해당란에 정확히 표기하였는가?